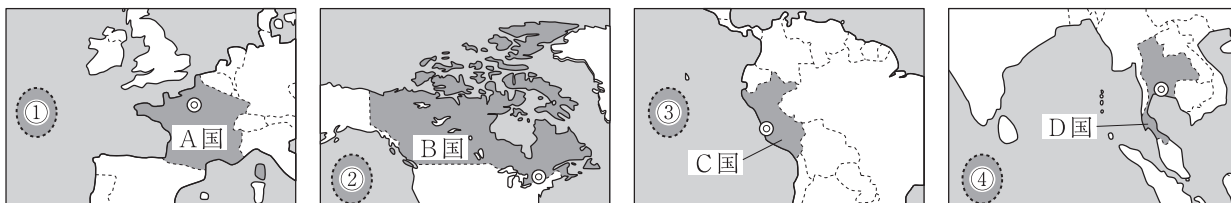



【問1】 正樹さんは、世界のさまざまな地域を学習する授業で、略地図中の A 国～D 国や日本に関連することについて、地図や資料を使って調べました。あとの問いに答えなさい。

【略地図】



注1：略地図中の◎は、首都の位置を示している。
注2：各地図の縮尺は同じではない。

- (1) 略地図において  で示された①～④は、それぞれ三大洋の一部です。同じ海洋を示す組み合わせを、次のア～カから一つ選び、記号で答えなさい。また、その海洋名も書きなさい。
ア ①と② イ ①と③ ウ ①と④ エ ②と③ オ ②と④ カ ③と④
- (2) 資料Ⅰは、略地図中の A 国～D 国の人口などについてまとめたものです。ア～エは、A 国～D 国のいずれかです。資料Ⅰを見て、あとの問いに答えなさい。

【資料Ⅰ】 (2019年)

	人口 (千人)	国土面積 (千 km ²)	1人あたりの 国民総所得 (ドル)	日本への 輸出額 (億円)
ア	32,510	1,285	6,635	2,683
イ	65,130	552	41,155	13,127
ウ	69,626	513	7,407	27,651
エ	37,411	9,985	45,935	12,864

(『世界国勢図会 2021/22年版』などから作成)

- (a) A 国にあたるものを、ア～エから一つ選び、記号で答えなさい。
(b) A 国～D 国の人口密度を比較したとき、人口密度が最も高い国はどれか、国の記号 A～D で答えなさい。また、その国名も書きなさい。
- (3) 資料Ⅱは、正樹さんが A 国の気候について学習したときにまとめたものです。資料Ⅱの , , にあてはまる言葉の組み合わせとして適切なものを、あとのア～クから一つ選び、記号で答えなさい。

【資料Ⅱ】

- 疑問に思ったこと
A 国の首都は山形市に比べ に位置しているのに、冬の気候が である。どうしてだろうか。
- 調べてわかったこと
A 国の気候は、 方向へ流れる海流と、その上空をふく風の影響を受けている。

- ア X 低緯度 Y 温暖 Z 高緯度から低緯度
- イ X 低緯度 Y 寒冷 Z 高緯度から低緯度
- ウ X 低緯度 Y 温暖 Z 低緯度から高緯度
- エ X 低緯度 Y 寒冷 Z 低緯度から高緯度
- オ X 高緯度 Y 温暖 Z 高緯度から低緯度
- カ X 高緯度 Y 寒冷 Z 高緯度から低緯度
- キ X 高緯度 Y 温暖 Z 低緯度から高緯度
- ク X 高緯度 Y 寒冷 Z 低緯度から高緯度

(4) 資料Ⅲは、正樹さんがB国と日本のおもな輸入相手国について調べ、まとめたものです。【資料Ⅲ】 B国と日本における輸入相手国上位3か国 (2019年)

資料Ⅲの , にあてはまる国を、次のア～オからそれぞれ一つずつ選び、記号で答えなさい。

- ア アメリカ イ イギリス
- ウ ブラジル エ 韓国 オ 中国

B国		日本	
国名	%	国名	%
<input type="text" value="a"/>	50.8	<input type="text" value="b"/>	23.5
<input type="text" value="b"/>	12.5	<input type="text" value="a"/>	11.3
メキシコ	6.1	オーストラリア	6.3

(『世界国勢図会 2021/22年版』から作成)

(5) 次は、正樹さんが、略地図中のC国で、先住民の言語以外も公用語とされている、歴史的な背景についてまとめたものです。適切なまとめになるように、 にあてはまる言葉を書きなさい。

大航海時代に南北アメリカ大陸に進出した国である として、C国は支配された。

(6) 正樹さんは、略地図中のD国が米の輸出国であることを知り、D国の稲作や、世界の米の輸出などについて調べました。次の問いに答えなさい。

① D国の稲作などで行われる、同じ土地で、同じ作物を年に2回栽培することを何というか、書きなさい。

② 資料Ⅳは、米の輸出国における、米の生産量と輸出量についてまとめたものの一部です。次は、正樹さんが、資料Ⅳからわかったことや考えたことをまとめたものです。適切なまとめになるように、 には高いか低いのいずれかの言葉を書き、 にはあてはまる言葉を、消費、割合という二つの語を用いて書きなさい。

【資料Ⅳ】 (2019年)

	生産量 (万t)	輸出量 (万t)
D国	2,836	685
中国	20,961	272
インド	17,765	973

(『世界国勢図会 2021/22年版』から作成)

D国は、中国やインドと比較すると、生産された米が輸出に向けられる割合が 国であることがわかる。このことから、D国は、中国やインドよりも、生産された米が国内で 国であると考えられる。

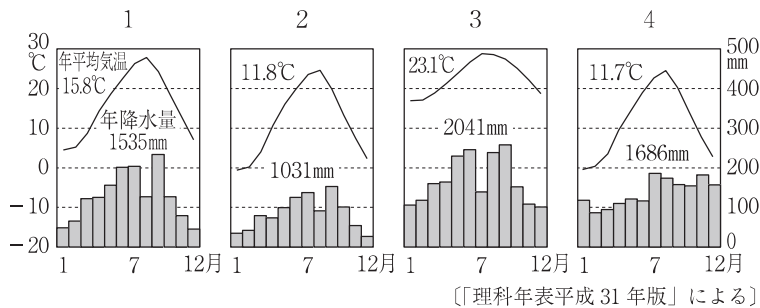
【問2】 下の略地図や資料を見て、次の(1)~(6)に答えなさい。

(1) 略地図中の X について述べた下の文中の にあてはまる語を書きなさい。

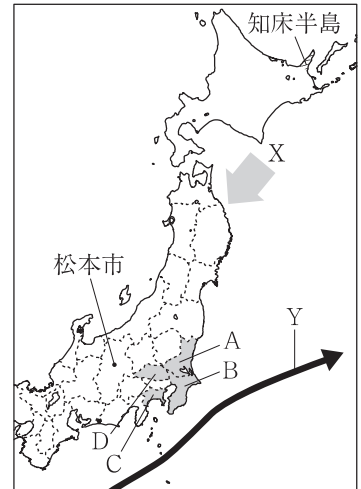
夏に吹く冷たくしめった北東の風で と呼ばれ、冷害をもたらすことがある。

(2) 略地図中の Y は、赤道付近から北上してくる海流を表している。この海流名を書きなさい。

(3) 略地図中の松本市の雨温図として適切なものを、次の 1~4 の中から一つ選び、その番号を書きなさい。



略地図



(4) 資料 1 は、略地図中の知床半島の高架木道しれとこ こうかを表している。これは、自然環境を維持しながら雄大な自然を体験するために設置された。このように自然環境や歴史、文化などを観光資源とし、その観光資源を損なうことなく、体験したり学んだりする観光の在り方を何というか、カタカナ 7 字で書きなさい。

資料 1



(5) 資料 2 は、略地図中の A~D の各県に計画的につくられた都市や地区を表している。これらの都市や地区がつけられた目的を、「都市問題の解決に向けて、」に続けて、次の 2 語を用いて書きなさい。

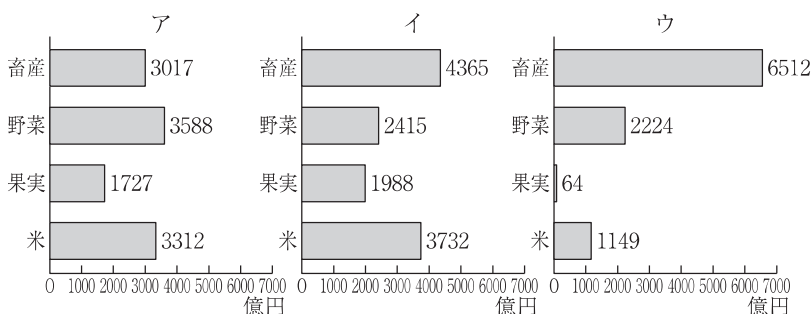
集中 分散

(6) 資料 3 のア~ウは、北海道地方、東北地方、中部地方の各地方の畜産、野菜、果実、米の生産額を表している。各地方とア~ウの組み合わせとして適切なものを、次の 1~4 の中から一つ選び、その番号を書きなさい。

資料 2

A	つくば 筑波研究学園都市
B	まくはり 幕張新都心
C	横浜みなとみらい 21
D	さいたま新都心

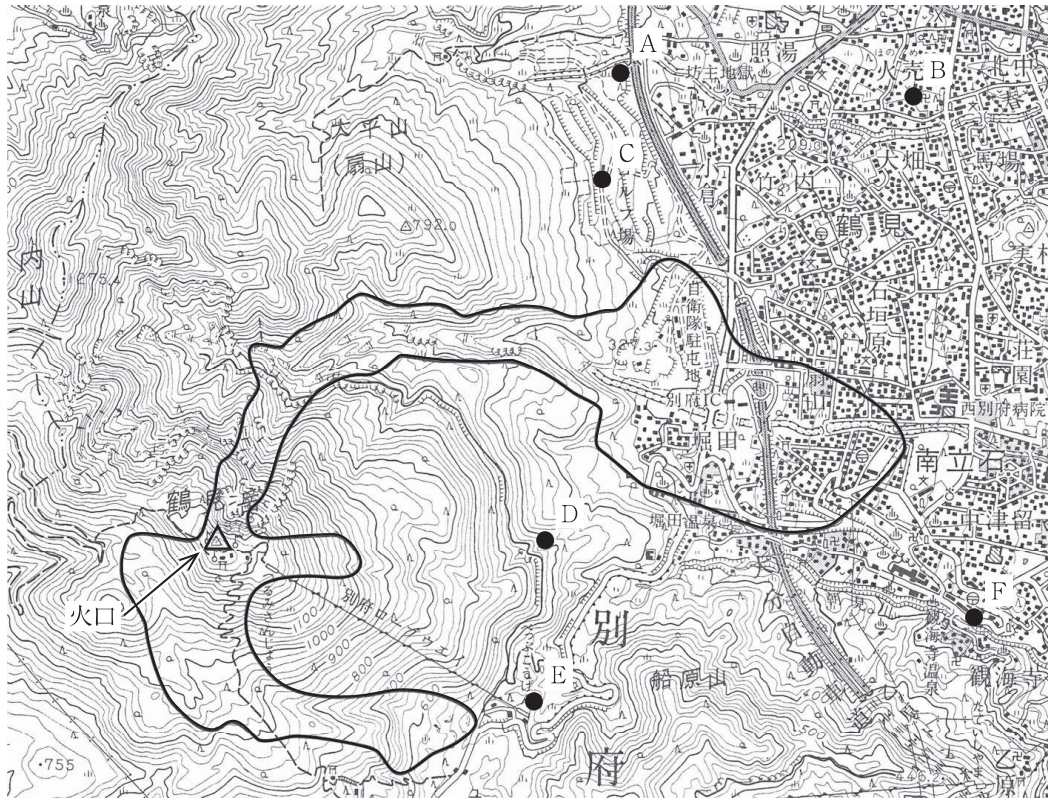
資料 3〔2015 年〕



	北海道地方	東北地方	中部地方
1	ア	イ	ウ
2	イ	ウ	ア
3	ウ	イ	ア
4	ウ	ア	イ

【問3】 次の資料は、太郎さんが、別府市の火山防災マップを参考にして、鶴見岳が噴火した場合の火口や、溶岩流が流れる範囲などを予想して5万分の1の地形図にかき加えたものである。この資料に関するあとの問いに答えなさい。

資料 別府市鶴見岳周辺の5万分の1地形図



(国土地理院発行5万分の1地形図，別府市ホームページより作成)

- (1) 地形図の○で囲まれた部分は、溶岩流が流れる予想範囲を示している。山の北側に流れた溶岩流は、途中から東側に流れると予想される。その理由を地形の特徴から説明しなさい。
- (2) 鶴見岳が噴火した場合、大きな噴石(50cm以上)が飛んでくる危険性のある範囲は、火口からおおむね4kmとされている。地形図上のA~Fのうち、火口から4kmの範囲に入らない地点はどれか。表を参考にしてすべて選び、記号を書きなさい。

地点	地形図上での火口からの長さ
A	7.0cm
B	9.4cm
C	6.1cm
D	3.8cm
E	4.1cm
F	8.7cm

【問4】 遙香さんのクラスでは、古代から近世までの歴史について、班ごとにテーマを決めて、調べ学習を行った。遙香さんの班は、「歴史の中の女性」というテーマで、古代、中世、近世についてそれぞれ調べた。次の各問いに答えなさい。

I 次は、遙香さんの班での会話の一部である。(1)~(3)の問いに答えなさい。

遙香：古代に活躍した女性にはどんな人がいるかな。

和哉：① エジプトの女王だったクレオパトラの名前は聞いたことがあるよ。

聡美：女王といえば、日本では邪馬台国の卑弥呼がいるね。

英雄：② 飛鳥時代の推古天皇は、初の女性の天皇といわれてるよ。

志織：平安時代には、「源氏物語」の作者として知られる紫式部などの③ 女性たちによって多くの文学作品が生み出されているね。

(1) 下線部①について、古代のエジプトでは、1年を365日とする_a(ア 太陰暦 イ 太陽暦)がつくり出され、_b(ア くさび形文字 イ 甲骨文字 ウ 象形文字)も発明された。
a, bの()の中から適当なものをそれぞれ一つずつ選び、記号で答えなさい。

(2) 下線部②について、飛鳥時代から奈良時代までのことがらを説明した次のア~ウのそれぞれの文について、正しいものには○を、誤っているものには×を書きなさい。

ア 冠位十二階の制度が定められ、豪族を家柄に応じて役人に取り立てるようにした。

イ 平城京に市が設置され、売買に和同開珎かいちんが使用された。

ウ 鑑真が唐から来日して新しい仏教を伝え、真言宗を開いた。

(3) 下線部③について、この背景の一つには、日本語の書き表し方の変化がある。平安時代に漢字をもとにして新しく生み出されたものは何か、書きなさい。

II 次は、中世の女性について調べたことを箇条書きにしたメモの一部である。(1), (2)の問いに答えなさい。

○ a は、夫である源頼朝よりともの死後、「尼將軍」とよばれ、後鳥羽上皇がおこした_b(ア 応仁の乱
イ 承久の乱 ウ 保元ほうげんの乱)では、御家人らに結束を呼びかけた。
○ ④ 鎌倉時代の武士社会では、女性の地頭も見られた。

(1) a に当てはまる人名を書きなさい。また、bの()の中から適当なものを一つ選び、記号で答えなさい。

(2) 下線部④について、鎌倉時代の武士社会における相続の方法は、鎌倉時代の終わりごろから次第に変化した。図1と図2は、鎌倉幕府の御家人である大友氏の1240年当時と1333年当時の系図であり、それぞれの年に□で囲んだ人物から□で囲んだ人物に領地が相続されたことを表している。図1に見られる領地の相続方法は、やがて御家人の生活を圧迫する一因となった。図1に見られる領地の相続方法が御家人の生活を圧迫することにつながった理由を、図2に見られる相続方法との違いに着目して説明しなさい。

図 1

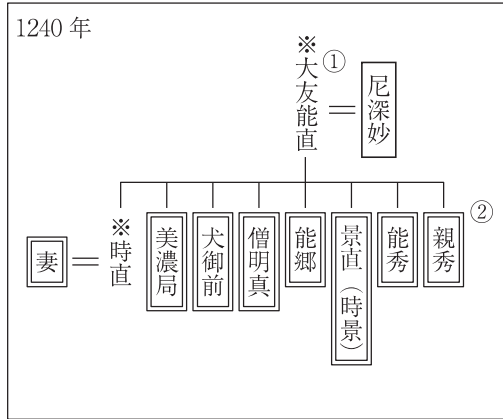
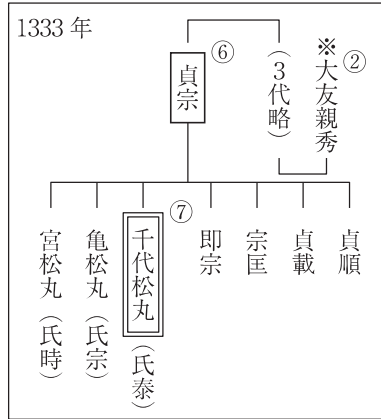


図 2



(注) 図 1 と図 2 の ○の数字は 大友氏の 当主となった 順番を、 ※は 当時すでに 亡くなっていた 人物を示している。

Ⅲ 次は、近世の女性について調べたことを簡条書きにしたメモの一部である。(1)～(3)の問いに答えなさい。

- ⑤ 参勤交代の制度のもとで、大名の妻は江戸に住むことを強制された。
- 出雲の阿国や⑥ 葛飾北斎の娘応為など、文化の面で才能を発揮した女性たちがいた。
- 江戸時代には各地で⑦ 綿織物の生産が盛んになり、主に女性たちが生産をになっていた。

- (1) 下線部⑤について、参勤交代を制度化した将軍は誰か、書きなさい。
- (2) 下線部⑥について、葛飾北斎の代表作である富嶽三十六景が出版された天保年間のできごととして正しいものを、次のア～エから一つ選び、記号で答えなさい。
- ア 大塩平八郎が挙兵した。 イ 「おくのほそ道」が出版された。
- ウ 公事方御定書が制定された。 エ 生類憐みの令が出された。
- (3) 下線部⑦について、資料 3 は、遙香さんたちが 19 世紀初めごろと 19 世紀中ごろの綿織物生産の様子を描いた A と B の二枚の絵を比較してまとめたものである。□に当てはまることばを書きなさい。

資料 3

<p>A</p>	<p>①家の主人 ②織物を集めに 来た商人 ③機を織る人</p>	<p>A の絵では、商人が農村の家々に原料となる糸や道具などを貸し、各家で生産された綿織物と引き換えに加工賃を支払う生産形態の様子が描かれている。これに対し、B の絵では、商人が作業場をつくって働き手を集め、⑤～⑧のように複数の働き手たちが□ことを特徴とする生産形態によって効率的に綿織物を生産する様子が描かれている。</p>
<p>B</p>	<p>④織屋の主人 ⑤糸を繰る人々 ⑥糸をそろえる人 ⑦糸を運ぶ人 ⑧機を織る人々</p>	

【問5】 次の略年表を見て、後の(1)~(4)の問いに答えなさい。

略年表

西暦	できごと
1854年	① <u>日米和親条約が結ばれる</u>
1871年	廃藩置県が行われる……………
1894年	日清戦争が始まる……………
1918年	② <u>米騒動</u> が起こる
1929年	③ <u>世界恐慌</u> が起こる

(1) 年表中の下線部①に「日米和親条約が結ばれる」とあるが、この結果、開港した二つの港の場所はどこか。次の略地図中の・印あ~えから二つ選び、その記号を書け。

略地図



(2) 年表中の A の時期に我が国で起こった次のア~エのできごとを、年代の古いものから順に並べ、その記号を書け。

- ア 大隈重信により、立憲改進黨が結成される。
- イ 伊藤博文が、初代の内閣総理大臣に就任する。
- ウ 板垣退助らにより、民撰議院設立建白書が政府に提出される。
- エ 第1回衆議院議員総選挙が行われ、帝国議会が開かれる。

- (3) 年表中の下線部②に「米騒動」とあるが、米騒動の直後に原敬が内閣を組織した。次の資料Ⅰは、原敬内閣発足時の閣僚の所属政党などを表したものであり、資料Ⅱは、このときの政党別の衆議院議員数を表したものである。我が国最初の本格的な政党内閣といわれる原敬内閣の特色として、資料Ⅰと資料Ⅱをもとにわかることを、「閣僚」の語を使って、簡潔に書け。

資料Ⅰ

閣僚	所属政党など
内閣総理大臣	立憲政友会
外務大臣	外務省官僚
内務大臣	立憲政友会
大蔵大臣	立憲政友会
陸軍大臣	陸軍
海軍大臣	海軍
司法大臣	立憲政友会
文部大臣	立憲政友会
農商務大臣	立憲政友会
ていしん 通信大臣	立憲政友会
内閣書記官長	立憲政友会
法制局長官	立憲政友会

(国史大辞典などより作成)

資料Ⅱ

政党名	衆議院議員数
立憲政友会	164 人
憲政会	118 人
立憲国民党	37 人
その他	62 人

(議会制度百年史による)

- (4) 年表中の下線部③の「世界恐慌」は、アメリカのニューヨークの株式市場で株価が大暴落したことをきっかけとして起こった世界的な経済危機である。この世界恐慌以後の各国のできごととして誤っているものを、次のア～エから一つ選び、その記号を書け。

- ア ドイツでは、ヒトラーが率いる政党が政権を握った。
- イ イギリスでは、他国の商品をしめ出すブロック経済が行われた。
- ウ アメリカでは、ニューディール（新規まき直し）政策が始まった。
- エ ロシアでは、ソビエト社会主義共和国連邦（ソ連）が成立した。