

【問1】 次の資料は、日本のできごとを年代の古い順に上から並べたものである。これを読んで、各問いに答えなさい。

- ① 倭の奴国の王が、後漢に使者を送った。
- ② 小野妹子が、隋に送られた。
- 後鳥羽上皇が鎌倉幕府の打倒を目指して挙兵し、③ 承久の乱が始まった。
- 将軍のあとつぎをめぐる対立から、④ 応仁の乱が始まった。
- ⑤ 豊臣秀吉が、刀狩令を出した。
- ⑥ 新井白石が、長崎での貿易を制限した。
- ⑦ 松平定信が、江戸幕府の老中となった。

1 ①のできごとが起こった頃の我が国の社会の様子について述べた文として最も適切なものを、ア～エから一つ選び、その記号を書け。

- ア ナウマンゾウをとらえて食料とした。 イ 弥生土器と呼ばれる土器がつくられた。
- ウ 各地に国分寺が建てられた。 エ 古墳の周りや頂上に埴輪が並べられた。

2 ②が隋に送られた年から白河上皇が院政を始めた年までの期間に起こった、次のア～エのできごとを年代の古い順に左から並べ、その記号を書け。

- ア 都が藤原京から平城京に移された。 イ 菅原道真の意見で遣唐使が停止された。
- ウ 藤原頼通が関白となった。 エ 墾田永年私財法が出された。

3 ③の後、鎌倉幕府は、一般に□P□と呼ばれる機関を設置し、都の警備や西日本の武士の統率に当たらせるとともに、□Q□を行わせた。□P□、□Q□にそれぞれ当てはまる言葉の組み合わせとして適切なものを、ア～エから一つ選び、その記号を書け。

- ア P 大宰府 Q 朝廷の監視
- イ P 大宰府 Q 中国や朝鮮に対する防衛
- ウ P 六波羅探題 Q 朝廷の監視
- エ P 六波羅探題 Q 中国や朝鮮に対する防衛

4 ④の後、実力のある者が地位の高い者をたおす下剋上の風潮が広がっていく中で、山城では国一揆が起こり、□□□□して自治を行った。□□□□に適切な言葉を書き入れて文を完成させよ。ただし、□□□□には、次の〔語群〕の言葉の中から一つ選び、その言葉と、武士や農民・追放の二つの言葉の、合わせて三つの言葉を含めること。

〔語群〕 守護大名 莊園領主

5 ⑤が政治を行った頃に栄えた文化は、一般に 文化と呼ばれている。右の絵は、 が描いた屏風絵の一部であり、 文化を代表する作品の一つである。, にそれぞれ当てはまる言葉の組み合わせとして適当なものを、ア～エから一つ選び、その記号を書け。



- ア X ^{ひがしやま}東山 Y ^{せつしゅう}雪舟 イ X 東山 Y ^{かのうえいとく}狩野永徳
ウ X ^{ももやま}桃山 Y 雪舟 エ X 桃山 Y 狩野永徳

6 右の資料は、⑥が著した書物の一部を要約したものであり、次の会話文は、直子さんと先生が、資料を見ながら話をしたときのものである。文中の に当てはまる人物の氏名を書け。

【資料】

幕府の財政がすでに行きづまっていたので、先代は、^{げんろく}元禄八年九月から、貨幣の発行量を増やすために、貨幣の質を落とした。

(「折たく柴の記」による)

先生：資料中の先代とは、江戸幕府の将軍であった のことです。 は、幕府の財政を立て直すために、この資料に書かれた政策を行いました。物価の上昇を招きました。その後、幕府の政治を担った⑥は、どのような対策を行いましたか。

直子さん：貨幣の質を元にもどして、物価を引き下げようと思いました。

先生：そのとおりです。

7 ⑦は、^{はたもと}旗本や御家人の、^{ふださし}札差に対する借金を帳消しにするなど、幕府政治の改革を行った。この改革は、一般に の改革と呼ばれている。 に当てはまる年号を書け。

【問2】 右の年表を見て、次の各問いに答えなさい。

問1 ①について、このとき全国の藩から朝廷に「版」と「籍」が返された。この「版」と「籍」とは何か、書きなさい。

問2 ②の時期について、次の(1)、(2)に答えなさい。

(1) 次のア～エのうち、②の時期におけるできごととしてあてはまらないものを1つ選び、その符号を書きなさい。

- ア 三国協商が成立する。
- イ 三国同盟が成立する。
- ウ 中華民国が成立する。
- エ ロシア革命が起こる。

(2) 資料1は、②の時期にロシアが日本に行った勧告の記録の一部である。Xは略地図のア～エのどれか、1つ選び、その符号を書きなさい。また、ロシアとともに資料1と同じ内容の勧告を日本に行った2つの国はどこか、その国名を書きなさい。

年	できごと
1869	①版籍奉還が行われる
1889	◇大日本帝国憲法が公布される
1894	◇日英通商航海条約を結ぶ
	↑ ↓ ②
1919	◇パリ講和会議が開かれる
1921	③日英同盟の解消が決まる
1925	④男子普通選挙を定めた法が成立する
1933	⑤日本が国際連盟からの脱退を表明する
1945	◇ポツダム宣言を受諾する
1946	◇日本国憲法が公布される
1952	⑥サンフランシスコ平和条約が発効し、日本が独立を回復する

資料1

日本が中国に求めた講和条約を調べてみると、その要求にある（X）を日本が所有することは、中国の首都をおびやかす。これは極東の平和の妨げになる。（略）（X）を領有することを放棄するよう勧告する。

（「日本外交年表並主要文書」より作成。表現はわかりやすく改めた）

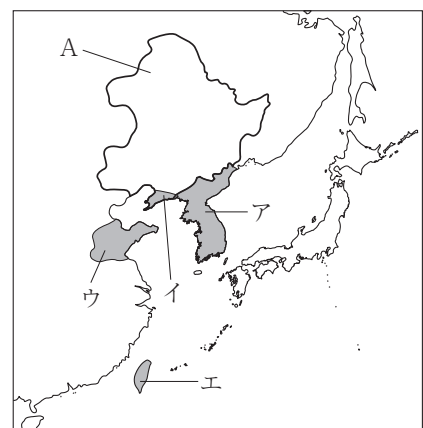
問3 ③について、日英同盟の解消が決まった会議では、海軍の軍備の制限についても話し合われた。この会議は開かれた場所にちなんで何と呼ばれるか、書きなさい。

問4 ④について、この法律が成立したときの日本の首相は誰か、次のア～エから正しいものを1つ選び、その符号を書きなさい。

- ア 犬養毅 イ 桂太郎 ウ 加藤高明 エ 原敬

問5 ⑤について、日本が国際連盟からの脱退を表明したのは、国際連盟が略地図のA地域についての日本の主張を認めなかったためである。認められなかった日本の主張はどのような内容か、書きなさい。

略地図



問6 資料2は、⑥以降の沖縄の経済に関わるできごとをまとめたものの一部であり、資料3は1971年10月に日本政府の沖縄担当者が述べた談話の一部である。資料3の下線部のように、沖縄の人々が抱いた不安は何だと考えられるか、当時の沖縄のおかれた状況の変化を明らかにして、資料2と資料3を関連づけて書きなさい。

資料2

年月	できごと
1958年9月	アメリカのドルが法定通貨となる
1971年4月	日本銀行那覇支店の開設準備室が設置される
1971年8月	これまで固定されていた為替レートが変動する制度となって、円高となり、それが続く
1972年5月	日本銀行那覇支店が開設され、通貨交換が6日間に渡って行われる

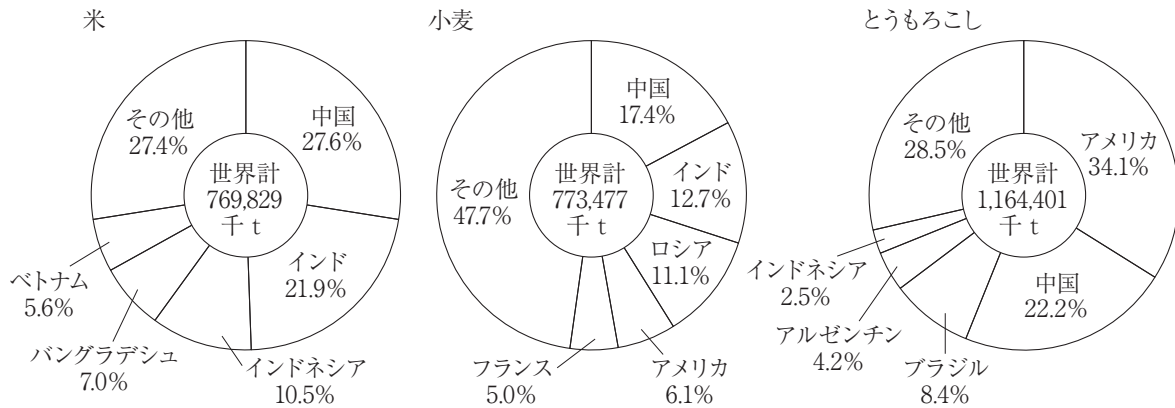
資料3

永年にわたる沖縄の人々の労苦に報いることを考慮し、為替レートの変動について沖縄の人々の間に見られる不安を一日も早く解消するため、沖縄の人々の保有するドルの金額が確認された後、それにもとづいて、政府は、通貨交換の際、給付金を支給する。

（「屋良朝苗回顧録」より作成。表現はわかりやすく改めた）

【問3】 若菜さんのグループは社会科の調べ学習で、世界のおもな農産物について調べて発表することになりました。資料1をみて、後の各問いに答えなさい。

資料1 米・小麦・とうもろこしの国別生産割合（2017年）※四捨五入の関係で100%にならない場合がある。



〔世界国勢図会 2020/21〕より作成

1 資料1から読み取れることとして適切なものはどれか。次のアからエまでの中から1つ選びなさい。

- ア 米・小麦・とうもろこしのうち、生産量が最も多いのは、小麦である。
- イ 米・小麦・とうもろこしの生産割合上位5か国は、すべて北半球に位置している。
- ウ 米・小麦・とうもろこしのいずれも、生産割合上位5か国で60%以上を占めている。
- エ 米・小麦・とうもろこしのうち、中国で生産量が最も多いのは、とうもろこしである。

2 資料1の米の生産に関連して、若菜さんは米作りにかかわる写真を見つけました。この地域では、年に2回米を作ることがあります。このように、同じ土地で年に2回米を作れることを何というか。書きなさい。

写真 東南アジアでの稲作の様子



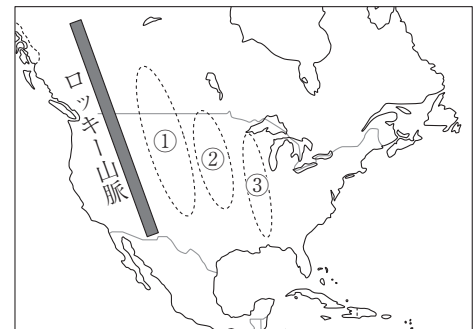
3 若菜さんのグループは、資料1の小麦、とうもろこしの生産割合が高いアメリカについて、説明文1、略地図1を使って発表することにしました。後の(1)、(2)の問いに答えなさい。

説明文1

アメリカでは、小麦やとうもろこしの多くは、略地図1が示すロッキー山脈の東側に広がる内陸部で栽培されています。

() 的農業が多く、センターピボットや大型機械などを使い、少ない人数で効率よく生産が行われています。

略地図1



- (1) 説明文1の()にあてはまる語句を漢字2字で書きなさい。
 (2) 略地図1の①から③にあてはまる語句の組み合わせとして正しいものはどれか。次のアからエまでの中から1つ選びなさい。

- ア ① グレートプレーンズ ② プレーリー ③ 中央平原
 イ ① プレーリー ② グレートプレーンズ ③ 中央平原
 ウ ① グレートプレーンズ ② 中央平原 ③ プレーリー
 エ ① プレーリー ② 中央平原 ③ グレートプレーンズ

- 4 若菜さんのグループは、資料2をみつけて米の輸出量の多い国について調べ、メモを作成しました。どこの国を調べたものか、資料2の中から1つ選び、国名を書きなさい。

資料2 米の輸出量上位5か国(2017年) メモ

① インド
② タイ
③ ベトナム
④ アメリカ
⑤ パキスタン

●天然ゴムの生産量が世界第1位(2017年)である。
●ASEANに加盟している。
●仏教徒の占める割合が多い。
●江戸時代、アユタヤに日本人の住む日本町があった。

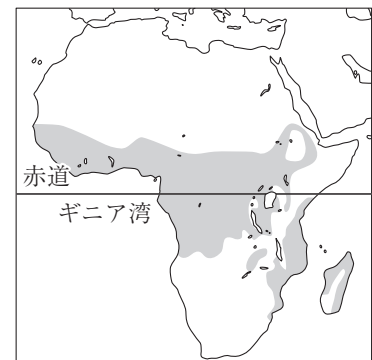
〔世界国勢図会2020/21〕より作成

- 5 若菜さんのグループは、アフリカの農産物について、説明文2、略地図2を使って発表することにしました。後の(1)、(2)の問いに答えなさい。

説明文2

この農産物は、世界全体の半分以上が赤道付近のギニア湾岸にあるコートジボワールとガーナで生産されており、日本を含む世界各地に輸出されている。

略地図2



- (1) 略地図2の■の部分(灰色塗りつぶし部分)は、5つの気候帯の1つを示している。この気候帯は何か。書きなさい。
 (2) 略地図2の地域で栽培されている農産物のうち、説明文2にあてはまる農産物は何か。次のアからエまでの中から1つ選びなさい。
 ア コーヒー豆 イ バナナ ウ カカオ豆 エ 茶

6 資料1のとうもろこしの生産割合が世界第3位のブラジルについて、若菜さんのグループは、次の発表原稿を考えました。ブラジルの環境保全について、発表原稿の()にあてはまる適切な内容を考え、書きなさい。

発表原稿

- 資料3をみると、ブラジルのさとうきびの生産量は、とうもろこしの生産量の7倍以上あります。世界第1位です。ブラジルで生産されたさとうきびは、半分近くが砂糖用として、残りがバイオエタノール(バイオ燃料)用として加工されています。
- しかし、さとうきびの生産を増やすために熱帯雨林を新たに伐採することは、環境破壊につながるため、ブラジル政府は2009年にさとうきびの作付け禁止区域を設けるなどの対策をとるようになりました。
- 資料4から資料6をみると、()ことなどから、ブラジルが環境保全の取組を進めていることがわかります。今後は、開発と環境保全の両立が求められます。

資料3 ブラジルのおもな農産物の生産量
(2017年)(単位千t)

おもな農産物	生産量
さとうきび	758,548
とうもろこし	97,722

〔世界国勢図会 2020/21〕より作成

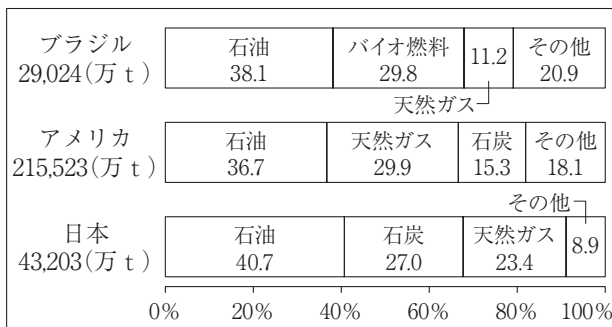
資料4 再生可能エネルギーによる発電量と総発電量に占める割合
(2017年)

国名	発電量(億kwh)	割合(%)
ブラジル	4,664	79.1
アメリカ	7,182	16.8
日本	1,682	15.7

〔世界国勢図会 2020/21〕より作成

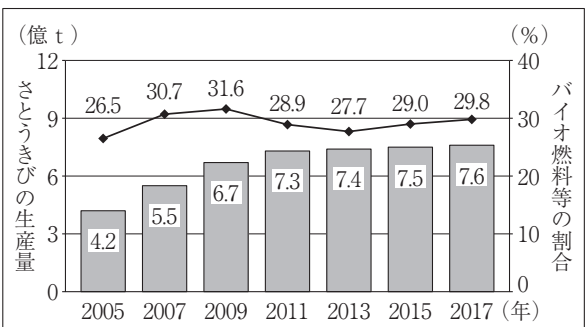
資料5 エネルギー供給の構成

(2017年)(石油換算)



〔世界国勢図会 2020/21〕より作成

資料6 ブラジルのさとうきびの生産量とエネルギー供給におけるバイオ燃料等の割合



〔世界国勢図会 2020/21〕などより作成

【問4】 次の資料は、社会科の授業で、ゆきさんたちの班が、SDGsの学習をおこなった際に使用したものである。授業では、17の目標について班ごとに話し合い、優先度の高いもの三つを選択し、その理由を考える活動をおこなった。これを見て、あとの問いに答えなさい。

資料 授業で使用したワークシート

自分にとっての優先度の高い目標を考えよう！

班の選択の結果と理由

SDGs (な開発目標) の 17 の目標から優先度の高い三つの目標を考えよう！

順位	目標	選択の理由
1	2 飢餓をゼロに	食べることが最も大事だ、と意見がまとまった。世界の人々が飢えずにずっと食料を確保できる <input type="text"/> な農業を進めていくべきである。
2	16 平和と公正をすべての人に	全てを奪う戦争はなんとしても防ぎたい、と意見がまとまった。 <input type="text"/> な開発を続けていくため、平和で誰も置き去りにしない、法や制度で守られる社会を実現していきたい。
3	13 気候変動に具体的な対策を	地球温暖化の問題は、 <input type="text"/> な社会を実現するために重要な問題だ、と意見がまとまった。世界全体で取り組むべき <u>地球温暖化対策</u> に協力していきたい。

- (1) 資料中の に共通してあてはまる適切な語を漢字4字で答えなさい。
- (2) 資料中の下線部に関連して、次の文は、現在世界で取り組まれている地球温暖化対策について述べたものである。 I , II にあてはまるものの組み合わせとして最も適切なものを、あとのア～エのうちから一つ選び、その符号を書きなさい。

2015年に2020年以降の地球温暖化対策の国際的な枠組みとして I が採択され、その中で II ことが定められた。

- ア I : 京都議定書 II : 先進国の温室効果ガスの削減を義務とする
- イ I : 京都議定書 II : 平均気温の上昇を産業革命前と比べ、世界全体で2℃以内に抑える
- ウ I : パリ協定 II : 先進国の温室効果ガスの削減を義務とする
- エ I : パリ協定 II : 平均気温の上昇を産業革命前と比べ、世界全体で2℃以内に抑える

【問5】 次のメモは、日本の選挙についてまとめたものの一部である。これを見て、下の各問いに答えなさい。

●選挙の原則

- ・直接選挙、①(X) 選挙などの原則にもとづいて実施されている。

●選挙の主な課題

- ・②一票の格差 ⇒ 2019年7月の参議院議員選挙について、(Y) 裁判所において「一票の格差を理由とする選挙の無効は認めない」とする内容の判決を受けた原告が、最高裁判所に(Z) した。

●選挙への関わり

- ・投票する…2016年の③法律の改正により、選挙権を有する年齢が引き下げられた。
- ・立候補する…被選挙権が一定の年齢以上の国民に認められている。

●選挙に関する事務を担当する機関

- ・国には中央選挙管理会、地方には④選挙管理委員会がおかれている。

問1 資料1は、下線部①について説明した文である。Xにあてはまる適切な語句を、資料1をもとに書きなさい。

問2 次のア～エのうち、Y、Zにあてはまる語句の組み合わせとして正しいものを1つ選び、その符号を書きなさい。

- ア Y—高等 Z—控訴
イ Y—高等 Z—上告
ウ Y—地方 Z—控訴
エ Y—地方 Z—上告

この投票は、だれをえらんだかをいう義務もなく、ある人をえらんだ理由を問われても答える必要はありません。

(「あたらしい憲法のはなし」より作成)

問3 下線部②について、選挙の主な課題となる「一票の格差(一票の価値の格差)」とは、どのようなことか、日本国憲法が保障する基本的人権の内容にふれて、書きなさい。

問4 下線部③について、参議院が衆議院と異なる議決をした法律案は、衆議院で再び可決すれば法律となる。総議員数465人の衆議院で420人の議員が出席した場合、再可決のためには最低何人の賛成が必要か、次のア～エから1つ選び、その符号を書きなさい。

- ア 211人 イ 233人 ウ 280人 エ 310人

問5 次の文は、下線部④が行う資料2のような取り組みによって、政治にどのような変化が起きると期待できるかをまとめたものである。□I□、□II□にあてはまる適切な内容を、資料2と資料3を関連づけて書きなさい。

資料2の取り組みは、選挙管理委員会が、□I□ことを目標として行っているものであり、目標が達成されれば、議会制民主主義のしくみを通じて□II□ことが期待できる。

資料2 選挙管理委員会の取り組みの例

資料3 2017年の衆議院議員選挙における年代別投票率

- ・ 高等学校や大学で模擬選挙を行う。
- ・ 期日前投票所を高等学校や大学に設置する。
- ・ SNSで選挙の情報を発信する。

(資料2は全国の選挙管理委員会のホームページより、
資料3は総務省のホームページより作成)

